

## قانون التبادل



$$A \times B = B \times A \quad \text{القانون}$$

أكملوا العدد الناقص حسب قانون التبادل:



$$7 \times 5 = 5 \times \boxed{\phantom{00}}$$

$$10 \times 11 = 11 \times \boxed{\phantom{00}}$$

مع جوليا 4 أكياس من الطوفي، وفي كل كيس 6 حبات. كم حبة طوفي مع جوليا؟



مع تامر 6 أكياس من الطوفي، وفي كل كيس 4 حبات. كم حبة طوفي مع تامر؟



اكتبوا تمريني الضرب لجوليا وتامر، هل حصلتم على نفس الجواب؟ لماذا؟

$$\boxed{\phantom{00}} \times \boxed{\phantom{00}} = \boxed{\phantom{00}} \times \boxed{\phantom{00}}$$

$$\boxed{\phantom{00}} \times \boxed{\phantom{00}} = \boxed{\phantom{00}} \times \boxed{\phantom{00}}$$