


مَدْرَسَة الْأَمَلِ الْإِبْتِدَائِيَّة

وَرَقَّة عَمَلِ حِسَابٍ لِلصَّفِّ الْأَوَّلِ ()

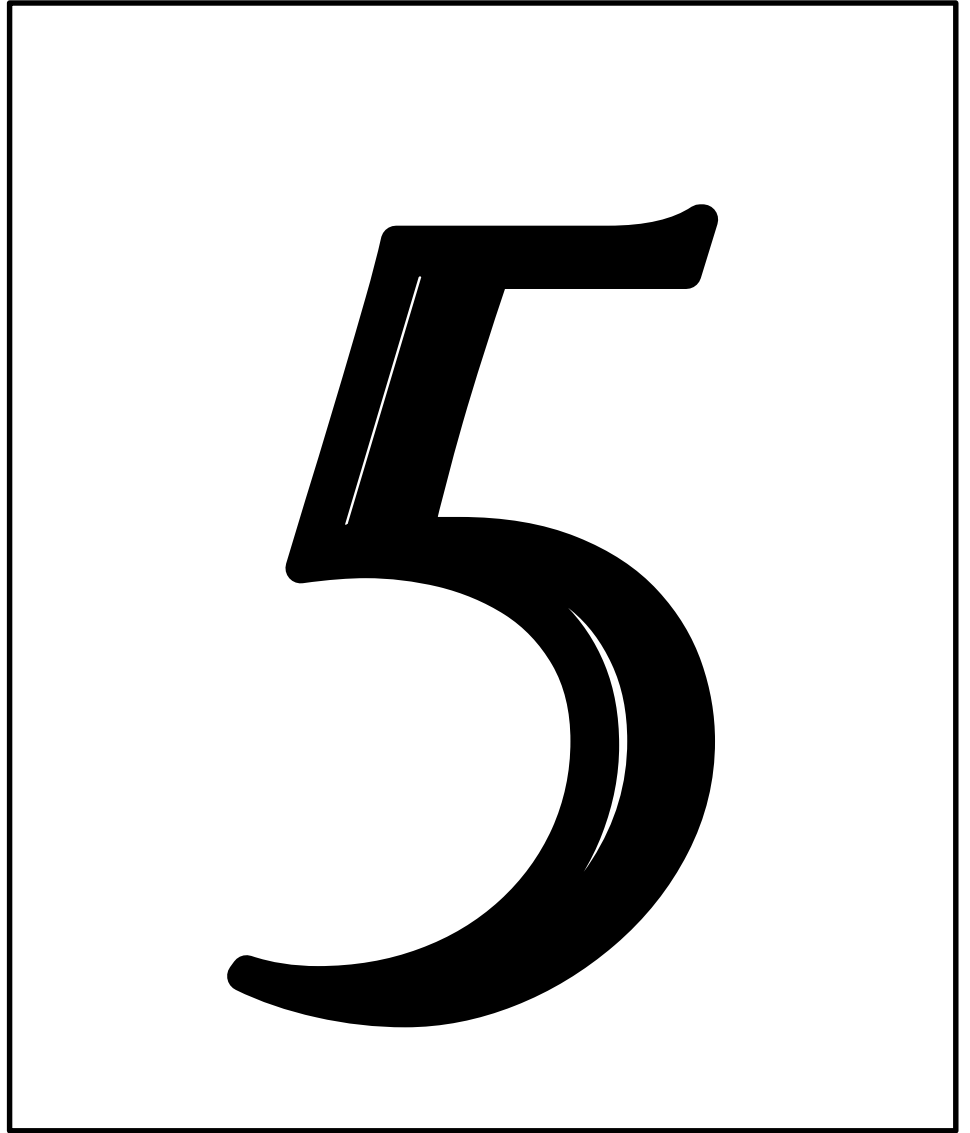
التاريخ: _____

الاسم: _____



• لَوْن

5 5 5 5 5



ضَع دَائِرَةَ حَوْلَ الْعَدَدِ 5:

4 9 5 2 3 5 8 7 5 4 2

5 2 9 5 0 1 5 3 6 5

4 5 5 2 3 5 8 7 5 4 2

5 2 9 5 0 1 5 3 6 5

4 9 5 2 3 5 8 7 5 4 2

5 2 9 5 0 1 5 3 6 5

4 9 5 2 3 5 8 7 5 4 2

5 2 9 5 0 1 5 3 6 5





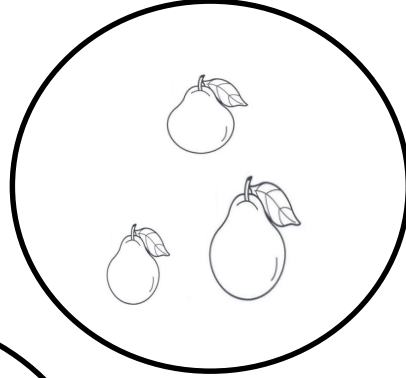
مَدْرَسَة الْأَمَل الْأَبْتَدَائِيَّة

وَرَقَّة عَمَل حِسَاب لِلصَّف الْأَوَّل ()

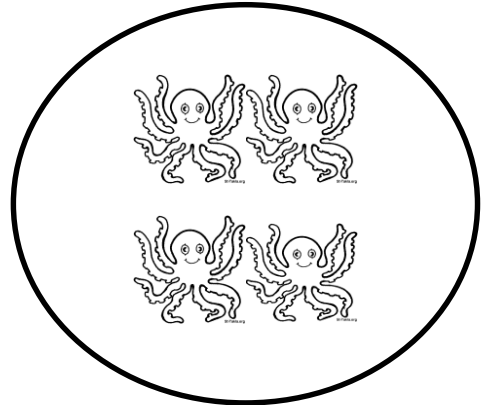


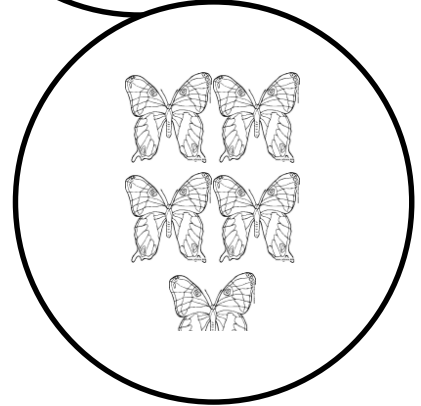
التاريخ: _____

الاسم: _____

• * مَدِ خَط بَيْنَ الْعَدَد 5 وَالْمَجْمُوعَة الْمُلَائِمَة لَهُ:



5



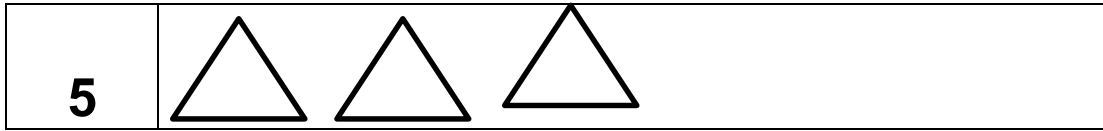
مَدْرَسَة الْأَمَلِ الْإِبْتِدَائِيَّة

وَرَقَّة عَمَلِ حِسَابٍ لِلصَّفِّ الْأَوَّلِ ()

التاريخ: _____

الاسم: _____

• أَكْمِلُوا الرَّسْمَ يَا أَحِبَائِي:



• أكمل المُتواليات:

* 1 2 _____

* 1 2 3 _____

* 1 _____

* _____ 4 5


* 2 3 _____

* _____ 2 _____ 4 _____

* _____ 3 _____ 5

* 1 2 _____

* _____ 2 3 _____



مَدْرَسَة الْأَمَلِ الْإِبْتِدَائِيَّة

وَرَقَة عَمَلِ حِسَابٍ لِلصَّفِّ الْأَوَّلِ ()

التاريخ: _____

الاسم: _____

• نُؤن الأعداد الأكبر من (3) :

4 2 3 5 1

• أرسم الكمية الملائمة لكل عدد :




5




2




4



1



5



3

مَدْرَسَة الْأَمَلِ الْإِبْتِدَائِيَّة

وَرَقَّة عَمَلِ حِسَابٍ لِلصَّفِّ الْأَوَّلِ ()

الاسم: _____ التاريخ: _____

• اكتب يا عزيزي تحت كل مجموعة العدد الملائم لها:

